

## แบบฝึกทักษะที่ 1.2

เรื่อง การบวกทศนิยมไม่เกินสองตำแหน่งที่มีการทด

จุดประสงค์การเรียนรู้

นักเรียนสามารถหาผลบวกของทศนิยมไม่เกินสองตำแหน่งที่มีการทดได้

ตอนที่ 1



คำชี้แจง ให้นักเรียนแสดงวิธีหาผลบวกต่อไปนี้ ข้อละ 1 คะแนน  
( 6 คะแนน )

ตัวอย่างที่ 1  $4.3 + 3.8 = \square$

วิธีทำ

$$\begin{array}{r} 1 \\ 4.3 \\ + 3.8 \\ \hline 8.1 \end{array}$$

ตอบ  $๘.๑$

ยังจำได้ไหม  
 $27.8 = 27.80$

ตัวอย่างที่ 2  $54.32 + 27.8 = \square$

วิธีทำ

$$\begin{array}{r} 54.32 \\ + 27.80 \\ \hline 82.10 \end{array}$$

ตอบ  $๘๒.๑๐$



1)  $1.8 + 0.7 = \square$

วิธีทำ

$$\begin{array}{r} 1.8 \\ + \\ \underline{0.7} \\ \hline \square.\square \end{array}$$

ตอบ .....

2)  $5.2 + 3.9 = \square$

วิธีทำ

$$\begin{array}{r} 5.2 \\ + \\ \underline{3.9} \\ \hline \square.\square \end{array}$$

ตอบ .....

3)  $4.5 + 2.6 = \square$

วิธีทำ

$$\begin{array}{r} 4.5 \\ + \\ \underline{2.6} \\ \hline \square.\square \end{array}$$

ตอบ .....

4)  $1.95 + 2.36 = \square$

วิธีทำ

$$\begin{array}{r} 1.95 \\ + \\ \underline{2.36} \\ \hline \square.\square\square \end{array}$$

ตอบ .....

5)  $81.16 + 5.77 = \square$

วิธีทำ

$$\begin{array}{r} 81.16 \\ + \\ \underline{5.77} \\ \hline \square\square.\square\square \end{array}$$

ตอบ .....

6)  $514.78 + 124.69 = \square$

วิธีทำ

$$\begin{array}{r} 514.78 \\ + \\ \underline{124.69} \\ \hline \square\square\square.\square\square \end{array}$$

ตอบ .....



## ตอนที่ 2



**คำชี้แจง** ให้นักเรียนแสดงวิธีหาผลบวกต่อไปนี้ ข้อละ 2 คะแนน  
( 12 คะแนน )

1)  $0.4 + 0.7 = \square$

วิธีทำ .....

.....

.....

ตอบ .....

2)  $1.6 + 0.5 = \square$

วิธีทำ .....

.....

.....

ตอบ .....

3)  $24.56 + 13.87 = \square$

วิธีทำ .....

.....

.....

ตอบ .....

4)  $36.72 + 12.89 = \square$

วิธีทำ .....

.....

.....

ตอบ .....

5)  $27.92 + 3.4 = \square$

วิธีทำ .....

.....

.....

ตอบ .....

6)  $81.47 + 5.69 = \square$

วิธีทำ .....

.....



.....

ตอบ .....

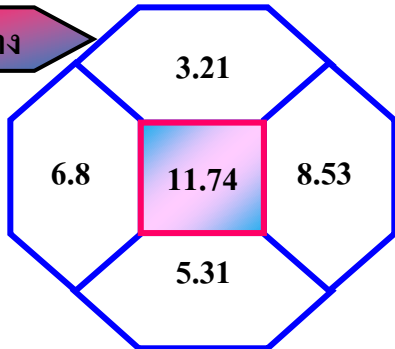


ตอนที่ 3

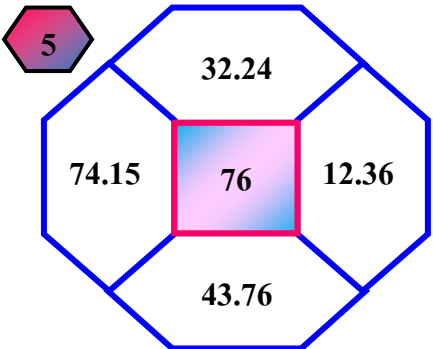
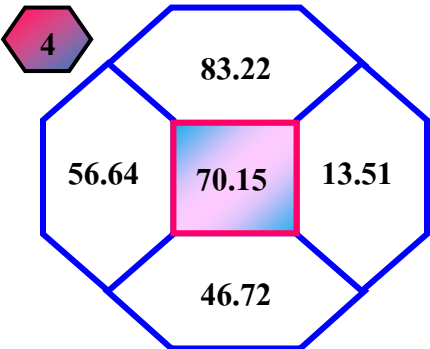
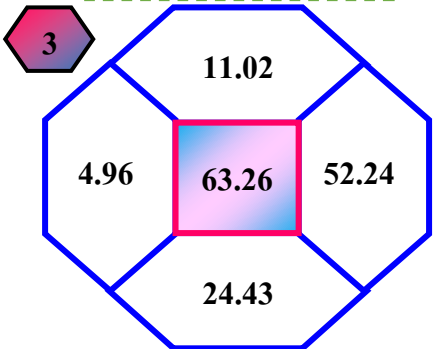
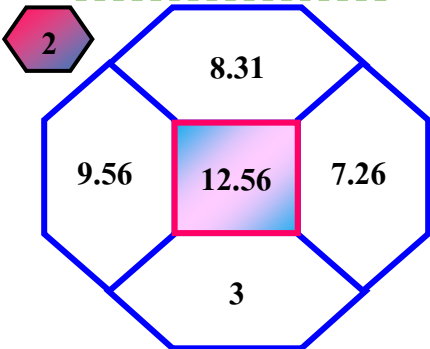
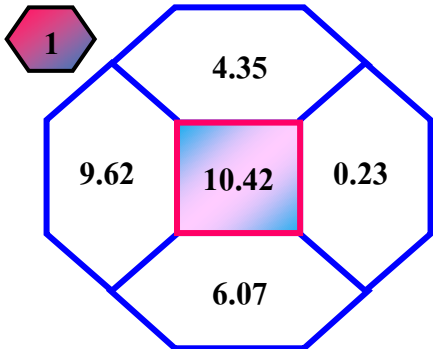


คำชี้แจง ให้นักเรียนนำทศนิยมที่อยู่ใน  มาเขียนในรูปการบวก  
ทศนิยมที่มีผลบวกเท่ากับจำนวนใน  ข้อละ 2 คะแนน ( 10 คะแนน )

ตัวอย่าง



$3.21 + 8.53 = 11.74$



ชื่อ.....เลขที่.....ชั้น ป.5  
คะแนนเต็ม 28 คะแนน คะแนนที่ได้.....คะแนน